



Nummer

Teamnaam

Ujese Kwis

Kwisboek 2023

Ter informatie

Spelregels Ujese Kwis 2023

Lees onderstaande punten aandachtig door voordat je begint!

1. De antwoorden op de vragen dienen te worden ingevuld in de daarvoor bedoelde omkaderde vakken van dit kwisboek.
2. Aan niet of slecht leesbare antwoorden worden geen punten toegekend.
3. Alleen teams die hun kwisboek tijdig en op de juiste wijze hebben ingeleverd dingen mee naar de prijzen. Tijdig wil zeggen: woensdagavond 27 december 2023 tussen 23.00 en 23.15 uur bij Poppodium De Pul, Kapelstraat 13, 5401 EC in Uden. Juiste wijze wil zeggen: Alle bladzijdes van het kwisboek moeten in dezelfde volgorde als bij ontvangst in de snelhechter teruggeplaatst zijn.
4. Er zijn 12 categorieën (maximum aantal punten te behalen klein | groot, excl. joker).

1. D'n hort op + Geheime opdracht (40)	7. Gift er mar kleur an (24 40)
2. Uje 2023 (24 40)	8. Ujese clubjes (24 40)
3. Vùr de kiendjes (24 40)	9. Uje uit de kunst (24 40)
4. De jeugd van tiggewórrig (24 40)	10. Gezang & gezwets (24 40)
5. Skón aauw Uje (24 40)	11. Herexamen (24 40)
6. Gezond Uje (24 40)	12. Van alles wa (24 40)
5. Indien je team in bezit is van een JOKER, kun je als team zelf bepalen bij welke categorie je deze JOKER wilt inzetten. Dit doe je door de JOKER aan de pagina met de bewuste categorie te bevestigen. Voor deze categorie worden de behaalde punten dan verdubbeld. Bij de volgende categorieën kan de JOKER NIET worden ingezet:
 - D'n hort op + Geheime opdracht
 - Vùr de kiendjes
 - Van alles wa
6. Als er bij een vraag **- ABC -** staat letten wij zeer streng op spelling en schrijfwijze. Dus niet EXACT goed geschreven betekent een fout antwoord!
7. Bij ophalen van het kwisboek heb je doorgegeven of je meespeelt voor de kleine of voor de grote kwis. Deze beslissing is BINDEND.
 - A. Voor de kleine kwis, gekenmerkt door de paarse antwoordvakken, tellen bij iedere categorie de eerste 24 punten mee.
 - B. Voor de grote kwis tellen alle 40 punten mee.
 - C. Bij de categorie 'D'n hort op + Geheime opdracht' dienen door alle teams alle vragen te worden ingevuld.
 - D. De kleine kwis levert maximaal 304 punten op, de grote kwis maximaal 480 punten, exclusief punten verdubbeld door de joker.

8. Wanneer er om een naam gevraagd wordt, volstaat de achternaam, tenzij anders vermeld.
9. Het kwisboek staat ook als pdf op onze site www.ujesekwis.nl.
10. Bij opdrachten waarbij men aan het verkeer moet deelnemen, dient men zich te allen tijde aan de verkeersregels te houden! Voor de veiligheid zitten er reflecterende veiligheidshesjes in de tas. Draag deze hesjes tijdens het deelnemen aan de Ujese Kwis.
11. Het kwisboek dient ingeleverd te worden met de volgende onderdelen:
 - Kwistas
 - Veiligheidshesjes
 - USB-stickNiet of niet correct inleveren van deze onderdelen betekent 10 punten aftrek.
12. De uitslag van de kwis wordt bekend gemaakt op 13 januari 2024 in Poppodium De Pul, Kapelstraat 13, 5401 EC in Uden, tijdens een gezellige feestavond. Aanvang 20.00 uur.
13. Bij onduidelijkheid/meningsverschillen zal de beslissing van het Bestuur van de Stichting De Ujese Kwis doorslaggevend zijn.
14. Na bekendmaking van de prijswinnaars staat deze uitslag definitief vast. Over de uitslag wordt niet gecorrespondeerd.

Sponsoren

Ujese Kwis 2023

De Ujese Kwis 2023 is mede mogelijk gemaakt door onze sponsoren. Wij danken onderstaande sponsoren van harte voor hun bijdrage aan de Ujese Kwis!



Sponsoren

Ujese Kwis 2023

De Ujese Kwis 2023 is mede mogelijk gemaakt door onze sponsoren. Wij danken onderstaande sponsoren van harte voor hun bijdrage aan de Ujese Kwis!



Rabobank



1. D'n hort op

24 punten te behalen

Deze route is gemaakt om te lopen, doe dit ook voor de veiligheid van onze deelnemers en anderen. Loop, waar het kan op voetpaden en denk aan de verkeersveiligheid. Zorg dat je tijdens het lopen van D'n Hort op goed zichtbaar bent, **draag het meegeleverde hesje** en gebruik indien je die hebt een extra lampje. De woningen alsmede de tuinen op en aan de route zijn geen onderdeel van de Kwis, **bel dus niet aan bij bewoners**. Alle antwoorden die vindbaar zijn, zijn zichtbaar vanaf de route die je loopt.

Vraag 1: Begeef je naar 51.645317, 5.624766 en parkeer hier je vervoersmiddel. **Hoeveel parkeerplaatsen voor elektrische voertuigen zijn hier?**

(2 punten)

1. 0 of 102 of 105

Vraag 2: Tijdens het lopen van de route kom je diverse palen tegen zoals op deze foto. **Hoeveel van deze vogelhuisjes kom je in totaal op de gehele route tegen?** Let op, palen die verder dan 5 meter van je pad/weg staan, tellen niet mee.

(3 punten)

2. 20



Vraag 3: Tijdens deze route kom je een tekst tegen van Maarten van den Elzen. Dichtbij vind je nog een tekst. **Hebben deze teksten evenveel klinkers, medeklinkers, of beiden?**

(2 punten)

3. Beiden



Loop in zuidelijke richting langs de uitkijktoren. Steek over en vervolg je weg over het pad, blijf in zuidelijke richting lopen en kies bij de Y-splitsing het linkerpad.

Vraag 4: **Hoeveel keien liggen er bij het pad op de plek waar deze foto is genomen?**

(2 punten)

4. 8

Blijf in zuidelijke richting over het pad lopen, kies bij de Y-splitsing het linkerpad, totdat je aan de linkerkant een brug tegenkomt en steek hier het water over. Ga daarna direct rechts en vervolg je weg op het voetpad.

Vraag 5: Maak een foto waar een teamlid, het teamnummer en deze locatie herkenbaar op staat. Lever deze foto in op de USB-stick.

(1 punt)



Blijf het voetpad volgen in zuidelijke richting, tot deze een bocht naar links maakt.

Vraag 6: Het laatste gebouw dat je gepasseerd bent aan je linkerkant laat aan de waterzijde een aantal huisnummers zien. Wat is de som van deze huisnummers?

(2 punten)

6. 148



Ga rechtdoor in oostelijke richting.

Vraag 7: Tegenover welk adres vind je hetgeen afgebeeld op deze foto?

(2 punten)

7. Mottoen 68

Blijf in oostelijke richting lopen en ga het voet-/fietspad op.

Vraag 8: Welke vier groenten staan afgebeeld bij het Zuidertuintje?

(2 punten)

8. Prei, Tomaat, Wortel, Ui/Knoflook/Look

Blijf het pad volgen totdat je hetgeen op deze foto aantreft.

Vraag 9: Hoe noemt men de dia's die verantwoordelijk zijn voor het lichteffect op de grond?

(2 punten)

9. Gobo's

Vraag 10: Wat is de naam van het wooncomplex aan je linkerkzijde (west)?

(2 punten)

10. Tokyo



Vervolg je weg in noordelijke richting en ga linksaf wanneer je hetgeen op onderstaande afbeelding ziet.



Vervolg je weg in westelijke richting

Vraag 11: Wat is het adres van het huis, waar een groot huisnummer in de voortuin staat?

(2 punten)

11. Morgenweg 4

Vraag 12: Je gaat door een fietssluis. Welke straten, parallel aan de straat waar je loopt, worden verbonden door het pad dat je hier oversteekt?

(2 punten)

12. Pattagon en Kroon

Blijf in westelijke richting lopen, steek de kruising over, en ga vervolgens het bruggetje over, sla rechtsaf om weer op het beginpunt te komen.

EINDE CATEGORIE

1. D'N HORT OP

Vraag 1: Een bekende Udenaar was dit jaar in twee verschillende datingprogramma's te zien. Wie is hij?

(2 punten)

1. Piet van de Krommenacker

Vraag 2: In 2006 werd Uje opgeschrikt door een afschuwelijke gebeurtenis. Hierover verscheen in mei 2023 een boek. Hoe heet het boek?

(2 punten)

2. Dit gebeurt alleen in films

Vraag 3: In de gemeente Maashorst hebben op 26 april 2023 weer een aantal mensen een koninklijke onderscheiding ontvangen. Wie reikte de lintjes uit?

(2 punten)

3. Burgermeester Rianne Donders

Vraag 4: Dit jaar verscheen er een wandelboek met trage tochten dat een Uje-tintje heeft. Hoe heet dit boekje, dat mede tot stand is gekomen door een oud bestuurslid van de Uje Kwis?

(2 punten)

4. Wandelen in de Meierij

Vraag 5: Op woensdag 14 juli, vond er weer een editie van 'Muziekfeest op het plein' plaats op de markt in Uje. Wie was de presentator van dit evenement?

(2 punten)

5. Jan Smit

Vraag 6: Wat is er gevolgen bij hotel van der Valk in Uje? (2 punten)

6. De Toekan



Vraag 7: Gemeente Maashorst heeft Maashorst-beelden geplaatst.

Wie zien we hier op de foto?

(2 punten)

7. Wethouder Jeroen van den Heuvel



Vraag 8: Welke attractie tijdens de Mega Kermis Uden won de Publieksprijs?

(2 punten)

8. Entertainer

Vraag 9: Als afgevaardigde van welke organisatie kwam op 28 juni hoog bezoek naar Uje?

(2 punten)

9. SchuldenlabNL

Vraag 10: Dit jaar is er een nieuwe wandeltocht georganiseerd in Uje. Wat is de naam van deze tocht?

(2 punten)

10. Vlucht 14-18

IN MEMORIAM



Vraag 11:

In maart van dit jaar overleed Paul Rüpp. Voordat hij de politiek in ging heeft hij ook nog les gegeven op een school in Uje. **Op welke school was dit?**

(2 punten)

11. Kruisherren Kollege



Vraag 12: Zie hier drie afbeeldingen van een gebeurtenis in de zomer in Uje. Hoeveel van deze beelden stonden er in totaal?

(2 punten)

12. Zestien stuks

EINDE KLEINE KWIS

Vraag 13: Welk Ujes verhaal duurt 14 minuten en was vanaf zondag 2 juli te beluisteren bij de bekende streamingsdiensten?

(2 punten)

13. Peerke Verschiet en de zomer zonder kersen

Vraag 14: Op welk festival in Uje trad deze persoon (zie foto rechts) op?

(2 punten)

14. UDNZ



Vraag 15: In het najaar hebben er vijftien mensen gesolliciteerd voor de functie van Burgemeester van de gemeente Maashorst. Waren er in 2023 meer of minder kandidaten op de vacature voor Burgemeester van de Gemeente Maashort dan in 2022?

(2 punten)

15. Meer

Vraag 16: Op welke plek in Uje is de foto gemaakt waarmee Mark van de Veerdonk tijdens de opening van de Fotoroute Uden 2023 zijn speech afsloot?

(2 punten)

16. Bedaf

Vraag 17: In november is een viaduct in Uje vernoemd naar een Udenaar. Wat was de militaire rang van deze Udenaar?

(2 punten)

- ABC -

17. Soldaat der eerste klasse

Vraag 18: Vul het ontbrekende woord in.

- A. bewerken
- B. schrijven
- C. metselen

(2 punten)

18. C. Metselen

Leerlingen [] toekomst bij feestelijke start bouw IKC West



Vraag 19: Sinterklaas was begin deze maand weer in ons land. Hoe heet de hulpsinterklaas die dit jaar op 25 november Uje bezocht?

(2 punten)

19. Jos Hilhorst

Vraag 20:

Tussen welke vijf straten(wegen) komt de nieuwe wijk “Eikenheuvel” te liggen?

(2 punten)

20. Lippstadtsingel, Karrevracht, Ruitersweg, Eikenheuvelweg, Munterweg

**EINDE CATEGORIE
2. UJE 2023**

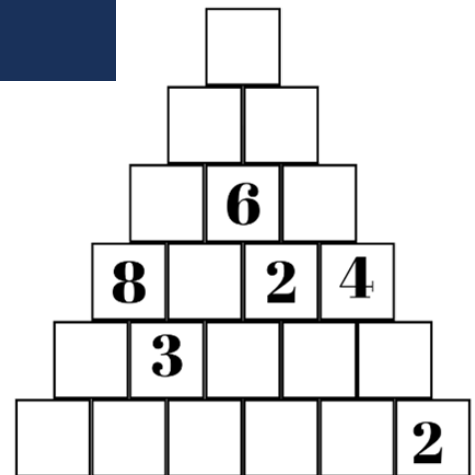
3. Vùr de kiendjes

Kleine kwis: 24 punten te behalen
Grote kwis: 40 punten te behalen

Vraag 1: Rekenpiramide

Tel steeds de onderste twee cijfers bij elkaar op en zet de uitkomst in het vakje daarboven. Tel dan de cijfers in de volgende rij bij elkaar op. **Welk getal staat er nu helemaal bovenin?**

(2 punten)



1. 30



Vraag 2: Dolle pret

Je ziet hier een gedeelte van de plattegrond van een pretpark. **Hoe heet de attractie waar een rode cirkel omheen staat?**

(2 punten)

2. Bootjesglijbaan Splash!

Vraag 3: Reusachtig

Hoe heet de reus die nog net met zijn neus boven de grond uitsteekt in het speelbos van Uje?

(2 punten)

3. Uot



Vraag 4: Ra Ra wie ben ik?
Hoe heet de figuur op dit plaatje?

(2 punten)

4. Enderman



Vraag 5: Vul op de puntjes woorden in die dezelfde lettervolgorde hebben, maar waar de spaties op verschillende plekken mogen staan.
(Voorbeeld: meneer - men eer - me neer)

(2 punten)

5. Ik loop in de **natuur**,
terwijl ik de wolken **na tuur**,
denk ik: het wordt een **nat uur**.



Vraag 6: Lekker dier

Het eerste deel van mijn naam is een rund en het tweede deel iets lekkers. **Wat ben ik?**
(2 punten)

6. Een koekoek

Vraag 7: Scherpe blik

Dit rare dier bestaat uit 5 verschillende dieren, maar welke van deze zie je niet op de afbeelding?

Kies uit een Tijger/ Giraf/ Poes/ Eend/ Paard/ Varken?

(2 punten)

7. Poes



Vraag 8: Kermisattractie

Op de kermis in Uje kun je al een aantal jaren in deze gave achtbaan. **Wat is de officiële naam van deze attractie?**

(2 punten)

8. SUPER MOUSE

Vraag 9: YouTube

Milan Knol is bekend met zijn eigen YouTube-kanaal "Milan Knol". **Hoe heette zijn vroegere YouTube-kanaal waar zijn naam niet in voorkwam?**


(2 punten)

9. DagelijksHaaDee

Vraag 10: Gele opdracht

Verzamel zo veel mogelijk gele spullen en maak hier een foto van.
Upload de foto op de usb-stick van de Ujese Kwis.

(2 punten)



Vraag 11: Ujese basisscholen.

Hieronder zie je zes logo's van Ujese basisscholen. Zet de naam van de school in de vakjes ernaast.



--	--	--	--	--	--	--	--



--	--	--	--	--	--	--



--	--	--	--	--	--	--	--



--	--	--	--	--	--	--



--	--	--	--	--	--	--



--	--	--	--	--	--	--	--	--	--

Welk woord lees je van boven naar beneden in de paarse vakken?

(2 punten)

11. Ladder (Lalder is ook goed gerekend)

Vraag 12: Lekker broodje
Welk deeg zit er om een worstenbroodje?

- A. Bladerdeeg
- B. Brooddeeg
- C. Biscuitdeeg



(2 punten)

12. B. Brooddeeg

EINDE KLEINE KWIS

Vraag 13: Limonadefeestje

Bas geeft een feestje. Hij heeft 4 liter limonade gemaakt. In een beker gaat 200 ml limonade. **Hoeveel bekers kan Bas met limonade vullen?**

(2 punten)

13. 20

Vraag 14: Langzaamst

Wat is het langzaamste zoogdier ter wereld: de luiaard, de slak of de schildpad?

(2 punten)

14. De luiaard; de andere twee gaan wel langzamer, maar zijn geen zoogdieren

Vraag 15: Spekjes

Hoeveel spekjes kun je eten op een lege maag?

(2 punten)

15. Eentje, want daarna is je maag niet meer leeg!



Vraag 16: Sport

Hoe noem je de activiteit bij de schoolsportolympiade waar je tussen de 14 en 20 spelletjes doet?

(2 punten)

16. sport&spelcircuit

Vraag 17: Lekker lezen

Wat is de volledige Nederlandse titel van dit boek?

(2 punten)

17. Dog Man, alle honds aan dek



Vraag 18: Carnaval

Wat doen Porcus en zijn gevolg met de Knoeris als op dinsdag het carnaval is afgelopen?

(2 punten)

18. Knoeris laten slapen

Vraag 19: Pannenkoek

In Uje hebben we een plek waar zelf pannenkoekenmeel gemaakt wordt. **Waar is dit?**

(2 punten)

19. Molen van Jetten

Vraag 20: Slabroekweek 2023

De Ujese Slabroekweek was weer één groot feest. **Hoe heet de figuur die je hieronder in het schuim ziet?**

(2 punten)

20. Kiki



**EINDE CATEGORIE
3. VÙR DE KIENDJES**

4. De jeugd van tiggewórrig

Kleine kwis: 24 punten te behalen
Grote kwis: 40 punten te behalen

Vraag 1: Er zijn afgelopen jaar weer bijzondere festivals voor de jeugd gehouden in Uje. **1.A: Hoe heet de DJ die te zien is na 20 seconden in de officiële Aftermovie van UDNZ 2023?**

(1 punt)

1.A (DJ) La Fuente

1.B: Een groot deel van Uje kon dit jaar genieten van de klanken van het Zomerzon-festival. **Twee van de vier podia van dit evenement in 2023 verwezen naar vogels. Welke twee vogels?**

(1 punt)

1.B Flamingo - Koekoek

Vraag 2: Om goed in vorm te zijn, gaan veel jongeren naar fitnesscentra/ sportscholen. Hier staan twee plaatjes van sportlocaties in Uje. **Noem de naam van de sportorganisatie en de huidige straat waar zij zich bevinden.**

(2x2 punten)



2.A FHIT's, Protonenlaan



2.B Verbueken Sports,
Goorkensweg

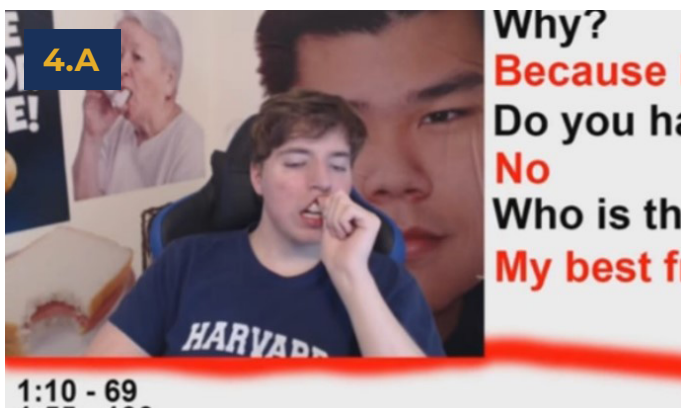
Vraag 3: Voor werk geldt in Nederland een minimumloon. Dit minimumloon loopt voor 15-jarige t/m 21-jarige steeds op en daarna is het voor iedereen gelijk. Het bedrag wordt twee keer per jaar aangepast en in 2023 is dit bedrag meer dan gebruikelijk gestegen. **Met hoeveel cent is het uurloon van een 18-jarige omhoog gegaan als je 1 juli 2023 vergelijkt met 1 januari 2023? Ga uit van een 40-urige werkweek.**

(2 punten)

3. 18 cent

Vraag 4: Welke twee bekende internetpersoonlijkheden zien we hier? Ze staan bekend onder hun aliansen. **Benoem echter hun echte namen.**

(2x2 punten)



- ABC -

4.A James Stephen "Jimmy" Donaldson

- ABC -

4.B Felix Arvid Ulf Kjellberg

Vraag 5: Tegenwoordig wordt er door de jeugd veel online gewinkeld. Hieronder zie je twee verzendlabels. **Van welke twee transportbedrijven zijn deze labels afkomstig?**

(2 punten)



5.

(A) UPS
(B) DHL

Vraag 6: De jeugd van tegenwoordig gebruikt veel gadgets. Modern of niet, ze vergemakkelijken je leven. **Vul in de puzzel de bijpassende voorwerpen in en je leest in de paarse kolom een nieuwe gadget.**

1.								
2.								
3.								
4.								
5.								



1.



2.



3.



4.



5.

Van welke gadget lees je de naam in de kolom?

(2 punten)

6. Drone

Vraag 7: De jeugd heeft de toekomst. Echter, we beginnen steeds later aan kinderen. **Wat is de populairste jongensnaam én de populairste meisjesnaam van 2022 die de letters U-J-E (of in andere volgorde) in de naam hebben? Let op: we zoeken dus twee namen met in beide namen de letters U-J-E.**

(3 punten)

7. Julie en Jurre

Vraag 8: Sushi is mateloos populair onder jongeren. Hieronder staan zes soorten sushi. Zet ze in alfabetische volgorde, waarbij je alleen naar de soortnaam kijkt en niet naar de ingrediënten.

(2 punten)



8. 3-2-5-7-4-1 of 3-2-7-4-1-5

Vraag 9: Het is voor de jeugd van tegenwoordig moeilijk om aan een huis te komen, zeker in ons mooie Uje. Hieronder zie je vijf zogeheten starterswoningen, die het afgelopen jaar zijn verkocht. Zet ze op volgorde van de laatste vraagprijs, van laag naar hoog.

(3 punten)



9. D - E - B - A - C

EINDE KLEINE KWIS

Vraag 10: Volg onze Instagram [@ujesekwis](#). Maak samen met je team een reel waarin je laat zien hoe jij met jouw team de Ujese Kwis beleeft. Post deze online tussen 20.00 en 22.00 uur op de kwisavond en tag ons via [@ujesekwis](#). Zorg dat in de beschrijving je teamnaam en teamnummer zichtbaar zijn.

Ter inspiratie hebben wij als bestuur ook een reel opgenomen. Deze vind je op onze Instagram.

(3 punten)

10. Je krijgt punten als je reel gedurende het tijdstip online staat, wij getagd zijn en je teamnaam en teamnummer vermeld zijn.

Vraag 11: In 2023 is het statiegeld op blikjes en flesjes ingevoerd. Het geeft ons veel zorgen om die allemaal te bewaren en correct in te leveren. Om wat duidelijkheid te verschaffen willen we jullie vragen om de tabel in te vullen of je met de volgende producten wel of niet langs de flessenautomaat kan. Of je er ook statiegeld voor krijgt is niet relevant.



(2 punten)

11.

	Wel geaccepteerd	Niet geaccepteerd
Flesje water zonder dop	X	
Flesje zonder streepjescode		X
Fles frambozensiroop		X
Petfles Fristi		X
Petfles van 4 liter		X
Blikje cola 33 cl	X	
Blikje zonder statiegeldlogo		X
Blikje dat platgedrukt is		X


Vraag 12: Welk 5-letterig woord, beginnend met een K, verbindt de voor jongeren populaire apps Dumpert en Strava? We zoeken naar iets dat bij beiden gebruikt wordt.

(1 punt)

12. Kudos

Vraag 13: In deze categorie kan een vraag over De Jeugd van Tegenwoordig niet ontbreken. De drie leden hebben allemaal hun opwachting gemaakt in een programma dat in 2023 is uitgezonden via TV of streamingsdienst (zie foto's). **Hoe heten deze programma's waar zij aan hebben deelgenomen?**

(3 punten)



13. **A: De Verraders**

B: De reis van Freddy of 3 op reis

C: Humberto

Vraag 14: Vapen is erg populair onder jongeren. Deze vorm van een elektronische sigaret blijkt echter toch heel schadelijk te zijn voor de gezondheid.

14.A: Waar komt de naam vape vandaan?

(1 punt)

14.A Komt van vaporizer (verdamper)

14.B: Uit welke vier onderdelen (naast soms water) bestaan de meeste vloeistoffen die omgezet worden in damp bij een schadelijk elektronische sigaret?

(2 punten)

14.B Propyleenglycol (PG), Glycerine/Glycerol, Nicotine, Smaakstof/Aroma

Vraag 15: Op de USB-stick staan twee fragmenten van bekende podcasts. **Van welke programma's zijn deze fragmenten?**

(2x2 punten)

15.A Geuze en Gorgels

15.B Wat een Week!

EINDE CATEGORIE

4. DE JEUGD VAN TIGGEWÓRRIG

5. Skón aauw Uje

Kleine kwis: 24 punten te behalen
Grote kwis: 40 punten te behalen

Vraag 1: Na de bevrijding Uje werd in september 1944 bevrijd. Een jaar later, op 31 augustus 1945, werd het bevrijdingsfeest uitbundig gevierd. Niet iedereen was blij, getuige onderstaand couplet uit een pamflet:

Udense jongens jullie denkt terecht
de Udense meisjes zijn zeer slecht
Wees echter niet bang, er komt een tijd
Dat jullie weer in achting stijgt



1.A: Tussen welke twee straten was de ereboog op deze foto opgebouwd?

(2 punten)

1.A Hoek Marktstraat-Kerkstraat

1.B: Waarom waren de Ujese jongens niet zo blij?

(1 punt)

1.B Omdat de meiden meer aandacht hadden voor de Engelse en Canadese soldaten

Vraag 2: Dè Nölleke
Een Ujes vertelsel;

Dè Nölleke dè prulleke was wis alleman te Uje.
Ge wist al genug as ie oe al mé zen één oog aon keek.
Koad was ie nie, alleén mar prulegtig.

2.A: Wat of wie was 'Bronollielamp'?

(1 punt)

2.B: Wat of wie was 'Pillekes'?

(3 punten)

2.A Petroleumlamp / olielamp

2.B Wachtmeester H.Pilkes

Vraag 3: Museum Krona vierde dit jaar haar gouden jubileum. In de expositie "Krona als hoofdzaak" werd dit hoofddekseel getoond. **3.A:** Wat is dit voor een 'hoofdzaak'? (1 punt)

3.A Brabantse Poffer

3.B: Welk museum gaf deze 'hoofdzaak' in bruikleen? (2 punten)

3.B Museum de Muts (te Uden)




Vraag 4: Oud In Nieuw

In 2015 werd in het centrum van Uje een wooncomplex opgeleverd. Hier is een oude verwijzing in het nieuwe gebouw aangebracht.

4.A: Waar verwijst deze tekst naar?

(1 punt)

4.A De regels van het Ujese volkslied in balustrades van wooncomplex 'Promenade'.



4.B: Wie is de bedenker/ ontwerper van dit idee?

(2 punten)

4.B Poula Versantvoort



Vraag 5: De flatwijk

In de jaren 60 groeide de Ujese bevolking explosief. De traditionele bouw en het bouwtempo zou leiden tot een groot tekort aan woningen. De bouw van een aantal flats was de oplossing. **5.A: Met hoeveel groeide de Ujese bevolking van 01-01-1945 tot 01-01- 1967?**

(2 punten)

5.A 10700 inwoners

5.B: Wanneer bereikte de eerste flat zijn hoogste punt (maand + jaar)?

(1 punt)

5.B April 1967

Vraag 6: Het “Buitenlandse” Uje

Midden 17e eeuw was Uje onderdeel van het Land van Ravenstein. En een aantal aangrenzende dorpen behoorden tot de Republiek der Zeven Verenigde Nederlanden, waar het katholieke geloof streng verboden was. Katholieken uit die dorpen moesten uitwijken naar het “buitenlandse” Uje. **Waarin konden de katholieken uit de omliggende dorpen van Uje hun geloof belijden?**

(2 punten)

6. Grenskerken

Vraag 7: Ujese Scholen

In Uje zijn in de loop van de tijd heel wat scholen gebouwd. Velen raakten buiten gebruik. Niet alle scholen vonden een bestemming en werden gesloopt, waar dan weer een mooi Ujes plekske gebouwd werd.

In onderstaande tabel worden zes scholen genoemd.

De vraag in kolom 1:

Is de school gesloopt of herbestemd?

De vraag in kolom 2:

Bij sloop: Wat voor soort gebouw is in de plaats gekomen?

Bij herbestemd: Welke bestemming heeft de school gekregen (dan wel gaat de school binnenkort krijgen)?

(6x1 punt, per goede regel ontvang je 1 punt)

7. School	Gesloopt of herbestemd	Nieuwbouw of bestemming
Jongensschool aan de Kapelstraat	Herbestemd	Horecagelegenheid
Sint Petrus Jongensschool	Gesloopt	Woningencomplex
LTS Sint Eloy	Gesloopt	Nieuwbouwwoningen
LHNO Sint Anna	Herbestemd	Udens College
ULO Sint Aloysius	Gesloopt	Wooncomplex
Lagere school PiusX	Herbestemd	Zorgappartementen

EINDE KLEINE KWIS

Vraag 8: ‘De Pul’ in Uje en ‘Paradiso’ in Amsterdam zijn allebei in mei van 1968 opgericht, waarmee het de twee oudste kernpodia van Nederland zijn. Begin jaren 70 was “Soos De Pul” in deze boerderij annex café gevestigd. De gemeente Uje heeft deze aangekocht en in bruikleen gegeven aan de grondlegger van De Pul.

8.A: Op de hoek van welke straten stond de boerderij annex café? (2 punten)



8.A Hoek Boschebaan-Kapelstraat

8.B: Wie was de grondlegger van “Soos De Pul”?

(2 punten)

8.B Priester Jan Donkers



Vraag 9: Het knekelhuisje werd in 1908 gebouwd en stond in 2014 op de nominatie om gesloopt te worden. Bij de opening in 2022 sprak burgemeester Paul Rüpp de woorden “We wisten niet wat we er mee moesten, hoe we erin konden én er was geen sleutel”. **9.A: Welke vereniging heeft het gebouwtje eigenhandig opgeknapt?** (2 punten)

9.A Gilde Sint Barbara en Sint Lucia

9.B: Wat is er op de zolder gevestigd?

(2 punten)

9.B Een permanente tentoonstelling over Auw Uje

Vraag 10: In de gemeente Maashorst staan een aantal kapellen waarvan hier foto's.



Bij elke kapel hoort een vraag.

Let op: Om de vragen te beantwoorden hoeft u de kapellen niet te bezoeken.

10.A: Welke tekst staat er op het voetstuk van het Mariabeeld in de kapel.

(2 punten)

10.A Maria Moeder Van Alle Mensen

10.B: In de buurt van welke historische plek is deze Mariakapel gebouwd?

(2 punten)

10.B Hier stond de grenskerk van Vorstenbosch

10.C: Van wie is deze Heilige de patrones volgens de teksttegel?

(2 punten)

10.C De Orde van Kruisheren

10.D: Op welke datum is deze kapel ingewijd? (dd-mm-jj)

(2 punten)

10.D 27-04-07

EINDE CATEGORIE
5. SKÓN AAUW UJE

6. Gezond Uje

Kleine kwis: 24 punten te behalen
Grote kwis: 40 punten te behalen

Vraag 1: In de gemeente Maashorst vinden wij gezondheid erg belangrijk. Zelfs zo belangrijk dat we symbolen gebruiken in het 'nieuwe' logo van de gemeente Maashorst. **1.A: Welk medisch symbool wordt er gebruikt in het 'nieuwe' logo van de gemeente Maashorst?**

(1 punt)

1.A Hartslag

Op diverse locaties wordt het logo van de gemeente Maashorst getoond.

1.B: Weet jij waar deze foto gemaakt is? Noem de straat waar dit kunstwerk momenteel staat.

(2 punten)

1.B Wilhelminastraat



Vraag 2: Hoe zit het met de kennis over algemene Nederlandse spreekwoorden? Veel spreekwoorden die wij hebben gaan over gezondheid. **Vul de ontbrekende woorden van deze spreekwoorden in.**

(2x2 punten)

2.A

Bitter in de **mond** maakt het hart gezond

Het is gezond om in het **vuur** te **pissen**

Het is beter de **bakkers** te **paard**, als de dokters

2.B

Iets **onder** de **leden** hebben

Wie gaat **slapen** zonder te hebben **gegeten**, staat op zonder te hebben **geslapen**

Vraag 3: Duurzaamheid, circulaire economie en biodiversiteit zijn allemaal begrippen die haast niet meer weg te denken zijn uit de huidige maatschappij. Afgelopen jaren zijn de boeren onder hete vuren komen te staan. Boer Wilco de Zeeuw pakt het werk op zijn akkers anders aan. Op zijn terrein in Slabroek zie je geen strakke akkers met maar één gewas. Ook zie je geen grote kale weilanden. Wilco doet aan agroforestry.

3.A: Wat betekent agroforestry?

(1 punt)

3.A Agroforestry is 'ouderwets' boeren door bomen, gewassen en dieren door elkaar te houden en te laten leven.

3.B: Wat is de functie van de houtsnippers die boer Wilco de Zeeuw in zijn voedselbos gebruikt?

(2 punten)


3.B De houtsnippers creëren een instant bosbodem. De houtsnippers komen rondom de nieuw aangeplante bomen te liggen, zodat de bodem meer bedekt is en zodoende ook meer vocht vasthoudt.

Het voedselbos van Wilco de Zeeuw brengt allerlei verschillende drink- en etenswaren waar je een volledig ontbijt van kan samenstellen. **3.C: Welke soort haverhout kun je bij boer Wilco de Zeeuw kopen en hoeveel kost een zak van 15kg?**

(2 punten)



3.C Voedselbos haverhout, een grootverpakking (15 kg) kost 30 euro.



Vraag 4: Gezond en vitaal ouder worden, dat willen we allemaal. **Bij welk Ujes evenement uit de jaren 70-80 hoort de volgende foto?**

(3 punten)

4. 4 Uden Sportief

Vraag 5: Aangehouden door meneer/mevrouw agent. Oppassen geblazen... Lieve inwoners van Uje, dit is niet iets om heel erg trots op te zijn. In Brabant zijn vorig jaar meer dronken automobilisten betrapt dan ooit tevoren. Bijna 5800 bestuurders werden op de bon geslingerd, 40% meer dan een jaar eerder. Koploper in onze provincie is de gemeente Maashorst. **5.A: Hoeveel bekeuringen heeft gemeente Maashorst uitgedeeld volgens het artikel geplaatst op 28 maart 2023?**

(2 punten)

5.A 365 bekeuringen

5.B: Naast een boete van maximaal € 21.750 kunnen ook andere straffen worden opgelegd wanneer je met te veel alcohol achter het stuur zit. Noem één andere straf:

(2 punten)



5.B Je kunt je rijbewijs kwijtraken, voor korte of langere tijd / In de zwaarste gevallen kun je een jaar gevangenisstraf krijgen. / Je moet een cursus over alcohol en verkeer volgen (LEMA of EMA).

Vraag 6: Gezond slapen is essentieel voor ons welzijn en onze algehele gezondheid. Door aandacht te besteden aan gezond slapen kunnen we ervoor zorgen dat we elke dag uitgerust en energiek ontwaken, klaar om het beste uit onszelf te halen. **6.A: Wat is de functie van de REM-slaap?**

(3 punten)

6.A REM-slaap staat voor Rapid Eye Movement-slaap en speelt een belangrijke rol bij het consolideren van herinneringen en het verwerken van emoties.

6.B: Er zijn vele factoren die de slaapkwaliteit positief of negatief kunnen beïnvloeden. Geef bij iedere omschreven factor aan of dit de slaapkwaliteit positief of negatief beïnvloed door een kruis op de juiste plek in de kolom te plaatsen.

(2 punten)

6.B

Factor	Positieve invloed	Negatieve invloed
Cafeïne		X
Een donkere kamer	X	
Alcohol		X
Mobiele telefoon		X
Slaapmedicatie	X	
Stress en piekeren		X
Sport overdag of vroeg in de avond	X	
Onregelmatige werktijden		X

EINDE KLEINE KWIS

Vraag 7: Het wordt steeds duidelijker dat eenzaamheid, en met name bij ouderen, een grote rol speelt op de kwaliteit van leven. Ook andere leeftijdscategorieën kampen met een gevoel van eenzaamheid. In 2020 is het RIVM een onderzoek gestart naar de Gezondheid van Volwassenen en Ouderen. Hierin registreert het RIVM ook het aantal angststoornissen, stress en depressies in Uje. Hieruit blijkt dat het percentage volwassenen met een hoog risico op een angststoornis of een depressie hoger ligt dan het landelijke percentage. Het landelijke percentage is 5.7%.

Hoeveel procent hoger ligt het percentage 'angst/depressie' in Uje volgens het rapport gemaakt in 2020 door het RIVM?

(3 punten)

7. Uden ligt op 6.7% en dat is 1% hoger



Vraag 8: De Schijf van Vijf is een veelgebruikt hulpmiddel voor het bevorderen van een gezond en gebalanceerd eetpatroon. Oliën en vetten zijn hier ook een onderdeel van. **8.A:** Geef in onderstaande kolom aan welke eetwissels omtrent oliën en vetten je volgens de Schijf van Vijf het beste kan maken.

(2 punten)

8.A

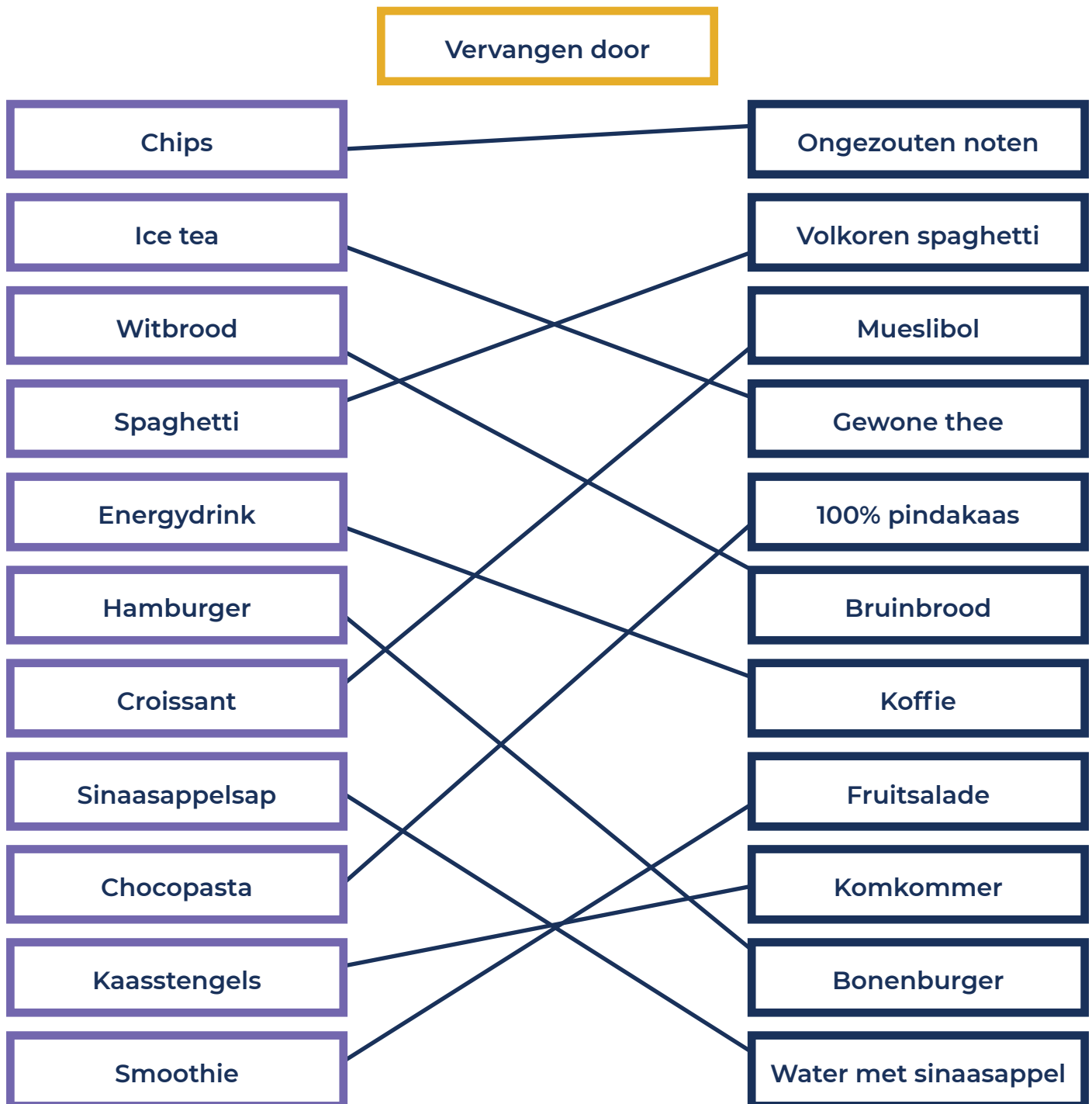
Je kan roomboter op de boterham het beste vervangen door **Halvarine**

Je kan kokosvet om te bakken het beste vervangen door **Zonnebloemolie**

Je kan hard frituurvet het beste vervangen door **Vloeibaar frituurvet**

8.B: Er zijn nog veel meer eetwissels die je kan maken. Hieronder zie je een lijst van eten en drinken. **Combineer de correcte eetwissels met elkaar.**

(2 punten)



8.C: Hoeveel porties vis worden aanbevolen om per week te eten volgens de Schijf van Vijf?

(1 punt)

8.C 1-2 porties (vis per week, waarvan min. 1 keer vette vis zoals zalm of makreel)

Vraag 9: Biodiversiteit is de prachtige verscheidenheid aan levende organismen op aarde. **9.A: Waarom is biodiversiteit belangrijk?**

(2 punten)

9.A Biodiversiteit is belangrijk omdat het essentiële ecosysteemdiensten levert, zoals het leveren van voedsel, zuurstofproductie, bestuiving van gewassen, waterzuivering en klimaatregulatie.



9.B: Wat is het concept van “ecologische voetafdruk”?

(2 punten)

**9.B De ecologische voetafdruk meet de impact van menselijke activiteiten op de natuurlijke hulpbronnen en ecosystemen (Inclusief de benodigde ruimte voor het onderhoud van onze levensstijl).
Of de ruimte die jij als persoon in beslag neemt (inclusief de impact).**

9.C: Wat kunnen individuen doen om bij te dragen aan het behoud van biodiversiteit? Noem er 2:

(1 punt)

9.C Individuen kunnen bijdragen aan het behoud van biodiversiteit door:

- **Duurzaam te consumeren,**
- **Energie te besparen,**
- **Deel te nemen aan natuurbeschermingsactiviteiten, en**
- **Bewustzijn te vergroten over het belang van biodiversiteit.**

Vraag 10: Het gebeurt tegenwoordig steeds vaker dat mensen bij het ervaren van gezondheidsklachten hun symptomen via Google opzoeken. Dit is begrijpelijk, aangezien het internet een schat aan informatie biedt en eenvoudig toegankelijk is. Het kan helaas ook leiden tot onnodige bezorgdheid, misinterpretatie van symptomen en zelfdiagnose, wat kan resulteren in onjuiste conclusies en onnodige angst. Wij willen iedereen adviseren om met hun persoonlijke gezondheidsklachten een arts te raadplegen. Weet jij wat je moet doen om deze fictieve situaties op te lossen? **Kan jij de juiste symptomen, diagnose en handelingswijze aan elkaar koppelen? Vul hieronder de juiste cijfer en lettercombinatie in. Bijvoorbeeld S1-D1-H1.**

(3 punten)

Symptomen	Diagnose	Handelingswijze
S1. Een bloeding uit één of beide neusgaten. Het proeven van bloed en je ziet bloed als je je neus snuit.	D1. Verslikking	H1. Bel 112 in geval van een hevige benauwdheid of een zwelling in de nek. Dien een adrenalinepen (EpiPen) toe.
S2. Paniek of naar de keel grijpen. Niet kunnen spreken of ademen. De huidskleur verandert: iemand wordt bijvoorbeeld blauw.	D2. Botbreuk	H2. Houd het hoofd licht voorover. Knijp vlak onder het neusbeen.
S3. Prikkelingen in de mond en keelholte. Zwelling van de keel, benauwdheid, kortademigheid, hoesten, piepende ademhaling.	D3. Bloedneus	H3. Bel 112 en dek een huidwond losjes af. Neem contact op met huisarts bij letsel aan de hand, arm, schouder, knie of voet.
S4. Het doet pijn als je het lichaamsdeel stilhoudt, en vaak nog meer pijn bij bewegen. De plek is verkleurd en/of gezwollen.	D4. Ernstige allergieaanval	H4. Moedig het slachtoffer aan om te blijven hoesten. Bel 112 en pas de Heimlich greep toe.

10. Combinatie 1 S1 – D3 – H2	Combinatie 2 S2 – D1 – H4	Combinatie 3 S3 – D4 – H1	Combinatie 4 S4 – D2 – H3
---	------------------------------	------------------------------	------------------------------

EINDE CATEGORIE 6. GEZOND UJE

7. Gift 'r mar kleur aon

Kleine kwis: 24 punten te behalen
Grote kwis: 40 punten te behalen

Vraag 1: REGENBOOG puzzel

Elke letter van het woord REGENBOOG staat in deze puzzel voor de beginletter van een kleurnaam. De kleurnaam is te herleiden uit een omschrijving, waarbij een keuze-mogelijkheid wordt geboden. De gemaakte keuze bepaalt een cijferwaarde per letter.

- R = Deze kleur heeft de langste [12] of kortste [10] golflengte?
- E = Is de kleur van wollen [28] of linnen [26] stoffen in ongebleekte staat?
- G = Een prille [18] of ervaren [7] situatie waarin iets of iemand zich kan bevinden?
- E = Voormalige artiestennaam van 'The Euphrates' [11] of 'The Jordan' [23]?
- N = Deze kleuraanduiding verwijst naar de landmacht [14] of de zeemacht [1]?
- B = De chef-kok in het programma "Misverstand" [17] of "De Kookklunzen" [2]?
- O = Een personage uit Harry Potter met de voornaam Dorotea [5] of Minerva [2]?
- O = Rijk in de Flatwijk [8] of de Bitswijk [4]
- G = Deze kleur staat voor verdriet [23] of voor vreugde [29]?

Wat is de uitkomst van de som van de acht gekozen cijferwaarden?

(4 punten)

1. 139



Vraag 2: De Regenboogvlag

De huidige en meest bekende uitvoering van de regenboogvlag heeft 6 kleuren. In 1978 werd de eerste regenboogvlag vormgegeven ter gelegenheid van de Gay Pride Parade in San Francisco en bestond uit acht kleuren.

Waar staan de twee extra kleuren voor?

(2 punten)

2. Seks | Magie

Vraag 3: De Ujese vlag is rechthoekig en bestaat uit twee verticale banen in de kleuren geel en blauw, waarvan de vlakken zich verhouden als 1:2. De kleuren zijn afgestemd op het wapen van Uje, dat in 1817 officieel werd aangevraagd. Het wapen van Uje is een afgeleide versie van een ander, ouder wapen.

3.A: Waar zijn de kleuren van het wapen van Uje uit 1817 van afgeleid?

(2 punten)

3.A (afgeleid van) De Rijkskleuren

3.B: Waar is het wapen van Uje een afgeleide versie van?

(1 punt)

3.B (afgeleide versie van) Het Wapen van Kleef

3.C: Wat zijn de schildkleuren van het wapen uit vraag 3B en het wapen van Uje?


(1 punt)

3.C Rood en Blauw (schild)



Vraag 4: Kleurrijk Uje - Door de jaren heen zijn er in Uje kleurrijke evenementen georganiseerd. **Op welke locatie (noem de straatnaam) vond elk evenement plaats?**

(3x2 punten)



4.A Markt

4.B Mondriaanplein

4.C Fietstunnel
Bitswijk-
Nisterodeseweg (Ben
van Dijk) Rondweg

Vraag 5: Kleurangst - In 1933 werd een song gecomponeerd voor de Disneyproductie "The Three Little Pigs". Deze productie vormde in 1962 de inspiratie voor een toneelstuk en latere verfilming in 1966. Hiernaar zijn tussen 1966 en 1970 een serie grootschalige schilderijen geschilderd, waarvan de schilder een natuurlijke verbinding voelde met een Nederlandse kunstbeweging en een in Uje bekende persoon in het bijzonder. **5.A: Wie is deze schilder?**

(2 punten)

5.A Barnett Newman

5.B: Met welke persoon voelde hij zich verbonden?

(2 punten)

5.B Piet Mondriaan

Vraag 6: Met het Ujese carnaval 2022-23 was het motto: "Gift'r mar kleur aon!
Wie was de bedenker van dit motto?

(2 punten)

6. Gert Jan van Heeswijk

Vraag 7: Op 2 juli 2023 was de première van de Theaterspoor-productie "Peerke Verschiet". Luister naar het geluidfragment op de USB-stick.

Welke kleuren worden in het fragment genoemd?

(2 punten)

7. Blauw en Geel

EINDE KLEINE KWIS

Vraag 8: Rood - Logo's van vier Ujese bedrijven/instellingen die iets met ROOD hebben. Wat van deze bedrijven/instellingen kenmerkt zich door de kleur ROOD?

(3 punten)



8.A Fietsen

8.B School

8.C Atelier

8.D Sokken

Vraag 9: Groen - Het bedrijf waar wij op doelen wordt ook wel het GROENE PELOTON genoemd. **9.A: Welk bedrijf wordt bedoeld?**

(1 punt)

9.A Groenbezorgen

9.B: Wat is hun slogan?

(2 punten)

9.B "Jouw zending zorgeloos en groen bezorgd"

Vraag 10: Geel - In september 2020 stonden in een aantal Ujese winkels deze gele bus.

10.A: Waar stonden deze bussen voor?

(1 punt)



10.A Gezamenlijke Goede Doelen Week (Collecte)

10.B: Hoeveel was de opbrengst lager dan de organisatie van tevoren had ingeschat?

(2 punten)

10.B 21377,91

Vraag 11: Blauw - In Uje zijn een aantal namen of voorwerpen waar het woord blauw in voor komt. Onderstaand 4 aanwijzingen waar 'blauw' is genoemd.

Vul hieronder de namen of voorwerpen in.

(4 punten)

11.

Naam van een biljartvereniging: **Tupke**

Onderdeel van Markant: **Foyer**

Onderdeel van een oud-papierbak: **Deksel**

Naam van een voormalig centrum voor 'gezondzijn en welbevinden': **Rijk**

Vraag 12: Paars - In 2011 vormde een coalitie van 4 partijen het bestuur van de gemeente Uje. **12.A: Welke partijen maakten deel uit van die coalitie in 2011?**

(1 punt)

12.A VVD/Leefbaar Uden, Jong Uden, PvdA en D66

12.B: Wat was de bijnaam van de coalitie partijen?

(2 punten)

12.B JongPaars

EINDE CATEGORIE
7. GIFT 'R MAR KLEUR AON

8. Ujese Clubjes

Kleine kwis: 24 punten te behalen
Grote kwis: 40 punten te behalen

Vraag 1.A: Welke Udenaar zorgde voor Paralympisch succes in 1988?

- ABC -

(2 punten)



1.A Robin Sonjé

1.B: Welke kleuren medailles veroverde hij?

(2 punten)

1.B Zilver en brons



Vraag 2: Wat is niet toegestaan bij een Ujese club op de vluchten: A23 St. Vincent en Z94 Barcelona?

(2 punten)

2. jaarlingen

Vraag 3: Welke 2 deelnemers wonnen in 2023 bij een Ujese vereniging het paastoernooi waaraan 34 teams deelnamen?

(2 punten)

3. Kathy en Henk

Vraag 4: Iedere sportvereniging kent regels. Welke Ujese sportvereniging heeft 10 spelregels opgesteld die gelden voor iedereen die betrokken is bij de vereniging, waaronder 'staan plezier en sportiviteit centraal (1)' en 'motiveren en moedigen we elkaar aan (4)'?

(2 punten)

4. V&K



Vraag 5: Verschillende Ujese clubs hebben een heus clublied. Welke club hoort bij de volgende tekst: 'je zit diep in ons hart... wat kan ons nog gebeuren... als je samen de wedstrijd bij ons start'?

(2 punten)

5. FC Uden

Vraag 6: Bij welke Ujese club voeren ze een competitie op een baan van 48 meter lengte en 8 sporen?

(2 punten)

6. m.r.t.u. - mini racing team uden



Vraag 7: Op de foto staat een gebouw afgebeeld. Veel mensen hebben hier heel wat uurtjes doorgebracht.

Welk gebouw zie je op deze foto?

(2 punten)

7. zwembad de Wel

Vraag 8: Welke in 2023 nieuw opgerichte Club organiseert jaarlijks zo'n 10 clubbijeenkomsten in het gebouw aan de Artillerieweg 3 in Uje?

(2 punten)

8. Fotoclub Maashorst

Vraag 9: Tegenwoordig zijn de meeste Ujese verenigingen bereikbaar via mooie websites en e-mailadressen. Een aantal verenigingen hebben echter nog steeds een brievenbus. Welke vereniging hoort bij de volgende brievenbussen?

(3x2 punten)



**9.A Chön-Ji-Kwan
Martial Arts Centre**



9.B Park Hoeven



9.C Scouting Uotha

EINDE KLEINE KWIS




Vraag 10: Welke Ujese vereniging heeft hier z'n opstelling staan?

(2 punten)

10. Bridge Vereniging Phoenix

Vraag 11: Bij welke voormalig UDI-speler hoort deze profcarrière?

(2 punten)



- ABC -

11. Earnest Stewart

Vraag 12: Van welke Ujese club is het kledingstuk op deze foto?

(2 punten)

12. rugbyclub octopus



Vraag 13: Er is een Ujese vereniging die gebruik maakt van controleurs. Als je deze controleurs hindert, beledigt of bedreigt, wordt je vergunning ingetrokken.

Over welke vereniging hebben we het?

(2 punten)

13. H.S.V. de Kleuter

Vraag 14: In het Udens Monopoly-spel bestaat de kans dat je wordt gekozen tot Prins Porcellus. **Welke bedrag moet je hiervoor aan elke andere speler betalen?**
(2 punten)



14. M50

Vraag 15: Welke vereniging heeft op maandagavond hun trainingsavond in Sporthal De Stigt?

(2 punten)

15. Basketbal Rush

Vraag 16: Veel Ujese verenigingen hebben ook een belangrijke maatschappelijke functie. Op de foto hiernaast zie je daar een goed voorbeeld van.

Wat is de tekst die op het kastje op de foto staat?
(2 punten)

- ABC -

16. PIT-tige Tijden huisje



Vraag 17: In Uje is een club waarbij jij je door het spelen van een bordspel in een fantasiewereld waant. **Hoe heet deze club?**

(2 punten)

17. Club DnD (Dungeons en Dragons bij MC) of Compendium

EINDE CATEGORIE 8. UJESE CLUBJES

9. Uje uit de kunst

Kleine kwis: 24 punten te behalen
Grote kwis: 40 punten te behalen

Vraag 1:

In Uje zijn veel beelden te vinden. De kunstenaars hebben hun best gedaan om onze stad op te fleuren.

1.A: Welke kunstenaars schonk dit beeld aan de wijk?

- ABC -

(2 punten)

1.A Marga Jansen



1.A



1.B

1.B: Wat is de naam van dit beeld?

- ABC -

(2 punten)

1.B De Drost

1.C: Welke persoon schonk dit beeld aan de gemeente Uje?

(2 punten)

1.C Cor v.d. Heijden



1.C



Vraag 2: Welke tekst bij het vraagteken hebben wij weggehaald?

(2 punten)

2. Slinger Kunst Route

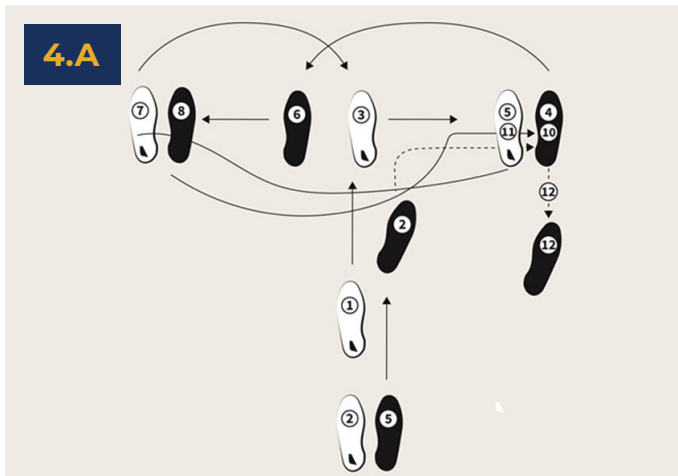
Vraag 3: Kunstenaars zijn er in allerlei soorten en maten. Wie is de kunstenaar op de foto?

(1 punt)

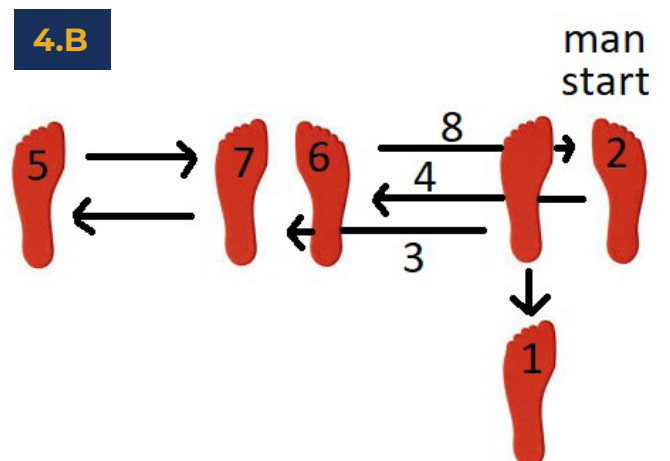
3. Piet Mondriaan



Vraag 4: Een mooie kunstvorm is natuurlijk dans. Wij als Ujese Kwis-bestuur zijn voor deze vraag op dansles geweest. **Welke dansen worden hier met danspasjes afgebeeld?** (2x2 punten)



4.A Tango



4.B Jive

Vraag 5: In Uje stonden dit jaar op een open zondag verschillende levende standbeelden. **In welke straat stond de publiekslieveling?**

(2 punten)

5. Galerij

Vraag 6: Architectuur hoort ook bij kunst. Hieronder staat 4 gebouwen/ontwerpen in onze gemeente. **Zet ze op volgorde van het eerst opgeleverd naar het laatst opgeleverd.**

(3 punten)



6. B - A - D - C

Vraag 7: In maart van dit jaar werd voor het eerst de Passie voor Pasen opgevoerd in Markant Theater Maashorst. **Wie speelde hierin de hoofdrol en wie vertolkte de rol van Maria Magdalena?** We zoeken twee namen.

(2 punten)

7. Maurice de Greef + Babs Hilliger

Vraag 8: Hier zie je een kaartje van Uje met daarop 3 rode stippen. **Welke drie instanties die met hun namen echt in deze categorie(naam) thuishoren, worden hier aangeduid?**

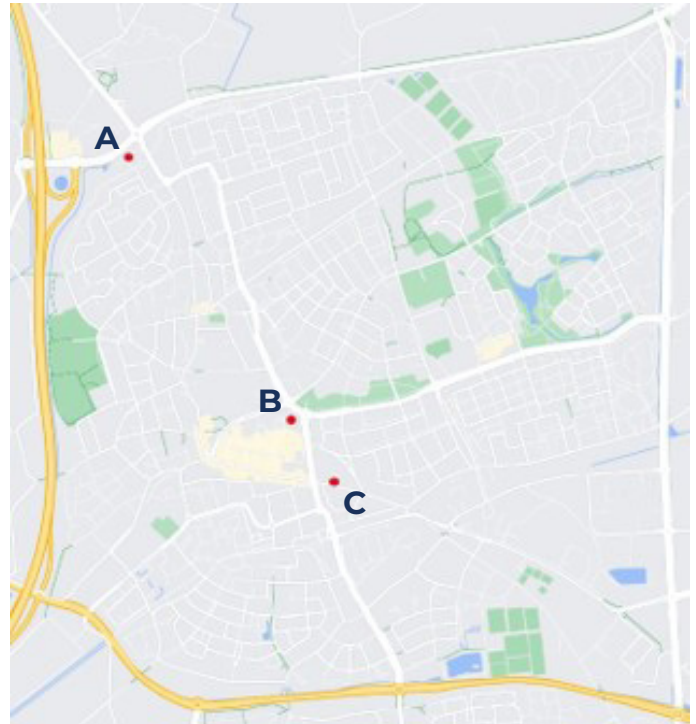
(2 punten)

- ABC -

8.A Arto Imago

8.B Kunst & Co

8.C (Galerie) Kunstation



Vraag 9: Bij kunst kun je ook denken aan alle hulpstukken in ons lichaam, zoals een kunstheup. Hier zie je nog zo'n voorwerp, namelijk een volwassen kunstgebit. Met het kruisje wordt steeds een tand aangeduid. Deze tand heeft een nummer. **Wat is de uitkomst wanneer je deze cijfers bij elkaar optelt?**

(2 punten)

9. 66

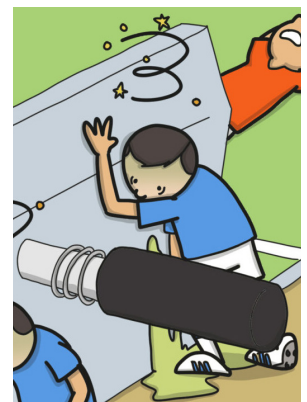
EINDE KLEINE KWIS

Vraag 10: Ook tekenen is een vorm van kunst. **Welke Udenaar (voor- en achternaam) heeft deze tekening gemaakt?**

(2 punten)

- ABC -

10. Doede Okkema



Vraag 11: Kunstenaars kunnen vaak goed met hun handen werken. Ze zijn dan ook erg creatief.

Welke technieken zie je op deze afbeeldingen?

(2x1 punt)



11.A Punniken

11.B Gutsen

Vraag 12: In de herfst vond voor de tweede keer de Fotoroute plaats in Uje, waarbij het werk van vele fotografen te bewonderen was. **Van hoeveel nieuwe fotografen was het werk te bewonderen vergeleken met de eerste editie?**

(2 punten)

12.1 (alleen Aart Kleinendorst)

Vraag 13: Als je aan kunst denkt, denken we ook aan kunstbloemen. Hieronder is een prachtig boeket te zien met allemaal kunstbloemen. **Hoe heten de bloemen aangeduid met A en B?**

(2x2 punten)



13.A Strelitzia

13.B Heliconia

13.C: Tijdens de inschrijfmiddag in De Preek was er ook een kunstbloem te zien in de plastic bak. **Hoe heet deze bloem?**

(2 punten)

13.C Magnolia



Vraag 14: Maarten v.d. Elzen is natuurlijk een bekende Ujese dichter. Een andere bekende Udense dichter/dichteres maakt vaak foto's bij zijn/haar gedichten. **Wat is de titel van het gedicht dat hoort bij deze vakantiefoto?**

(4 punten)

- ABC -

14. Ultiem vakantiegevoel

EINDE CATEGORIE

9. UJE UIT DE KUNST

10. Gezang & Gezwets

Kleine kwis: 24 punten te behalen
Grote kwis: 40 punten te behalen

Vraag 1: De naam op dit gebouw wordt bezongen in een Nederlands lied.

Noem titel en artiest:

(2 punten)



1. Oh, oh Den Haag van Harry Klorkestein



Vraag 2: Veel bekende muzikanten zijn erg gehecht aan één bepaald instrument. **Wat is de bijnaam van het instrument op de foto?**


(2 punten)

2. Frankenstrat of Frankenstein

Vraag 3: Twee Belgische acteurs, speelden in twee totaal verschillende series, elkaars broer. **Wat zijn de namen van deze twee acteurs?**

(2 punten)

3. Wim Willaert en Sebastien Dewaele



Vraag 4: Deze Udenaar die in een Nederlands televisieprogramma vaak te zien is op de EO bij NPO Zapp. Kinderen/families gaan in dit programma de strijd met elkaar aan in een specifiek bouwwerk.

Wie is de persoon op de motor?

(2 punten)

4. Peer (Peter) Meijs

Vraag 5: Welke film maakte deze drie personen?

(2 punten)

5. Reservoir Dogs



Vraag 6: De moeder van een bekende Nederlandse cabaretier woonde heel lang in Uje. Deze komiek was in Uje dan ook regelmatig te zien. **Met wie vormde deze cabaretier tot aan 1979 een cabaret-duo?**

(2 punten)

6. Bram Vermeulen

Vraag 7: Wie is de geboren Udenaar die in een band speelt die hoofzakelijk optreedt voor kinderen? Tip: Hij speelt ook veelvuldig met een bekende Nederlandse muzikant die bekend is geworden in Doe Maar.

(2 punten)

7. Richard Wallenburg

Vraag 8: In 1993 werd het boek "25 jaar jongerencultuur in Uden" geschreven. **Bij welke nationale omroep is de schrijver momenteel werkzaam?**

(2 punten)

8. VPRO

Vraag 9: Recht zie je een foto van een Udense muzikant. **Wie is deze Udense muzikant?**

(2 punten)

9. Coen Grooten



Vraag 10: Breaking Bad is een populaire serie die veel goede muziek bevatte. **Welk nummer hoor je in aflevering 12 van seizoen 2 van de serie, op negen minuten voor het einde in de bar? Noem de titel van het nummer.**

(2 punten)

10. Green Grass and High Tides

Vraag 11: Welke Nederlandse fotograaf, die vooral bekend is van, vaak ietwat wazige foto's van nationale en internationale sterren, maakte ook furore als regisseur van films en muziekvideo's?

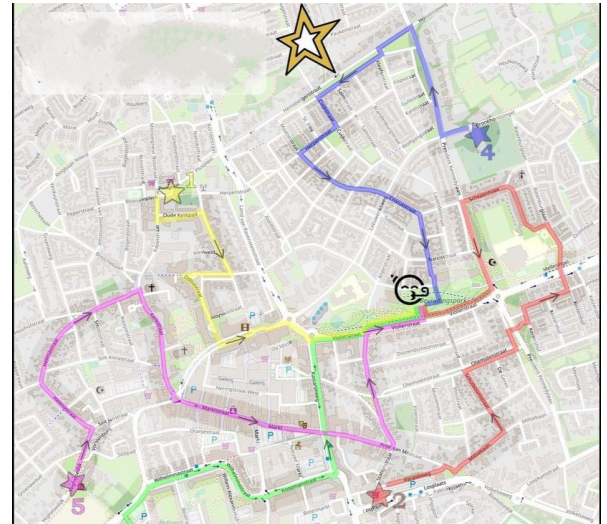
(2 punten)

11. Anton Corbijn

Vraag 12: Hoe heet het speciaal gecomponeerd stuk dat gespeeld is bij een evenement wat dit jaar plaatsvond?

(2 punten)

12. De Maashorst Mars



EINDE KLEINE KWIS

Vraag 13: Op 14 juni van dit jaar was er weer een “Muziekfeest op het plein”, dit werd uitgezonden op tv. Op welke datum en hoe laat was de eerste uitzending?

(2 punten)

13. 28 Juli om 21.19

Vraag 14: Het Stulpke heeft een CD uit gebracht met 2 nummers daarop. Wat is de tijdsduur van die twee nummers samen opgeteld zoals vermeld op de CD?

(2 punten)

14. 09.28

Vraag 15: Op welke artiest heeft het fragment betrekking wat te horen is op de USB-stick?

(2 punten)

15. Prince




Vraag 16: Op zaterdag 29 april speelde de Haagse band Gruppo Sportivo in de Pul in Uje. Een bekend nummer van hun is “Hey Girl”. In dit nummer zit een woordgrap. **Wat is de woordgrap?**

(2 punten)

16. She said, “Your nose is running honey, I said, “Sorry but it’s snot

Vraag 17: Naast goede muzikanten, goede nummers, en een mooie hoes, is er nog iets wat een goede plaat nodig heeft. **Wat is de volledige naam van de persoon die bij al deze vijf albums betrokken is?**

(2 punten)



17. Rick Rubin

Vraag 18: Veel beroemde muzikanten die in een bekende band spelen vinden het leuk om er iets extra's bij te doen, een hobbyproject. Wanneer meerdere bekende muzikanten een groep of band vormen, worden dit “Supergroups” genoemd. De volgende muzikanten speelden in een Supergroup. **Zoek de muzikanten bij elkaar die samen in een Supergroup speelden. Noteer de letters en geef de naam van de band.**

(2 punten)

A. Robert Palmer
B. John Paul Jones

C. Tom Petty
D. Roy Orbison

E. Andy Taylor
F. Joshua Homme

18.

Lettercombinatie

Bandnaam

1. **AE**

The Power Station

2. **CD**

Traveling Wilburys

3. **BF**

Them Crooked Vultures

Vraag 19: Het zangtrio Hemelwaters, met daarin de Udense Anouk van Grunsven, stond in het programma “Zing”. In de finale speelde ze eigen nummers, maar ook twee covers van bekende nummers. **Noem één van de twee bekende nummers?**

(2 punten)

19. Golden of Clocks

Vraag 20: Spannende films die nu vaak klassiekers zijn, kennen een bekende hoofdrolspeler die niet meer los te denken is van de film. Echter, in sommige gevallen was er eerst een andere acteur gecast voor een hoofdrol. **Wie zou in eerste instantie Marty McFly in Back To The Future spelen?**

(2 punten)

20. Eric Stoltz

EINDE CATEGORIE
10. GEZANG & GEZWETS

11. Herexamen

Kleine kwis: 24 punten te behalen

Grote kwis: 40 punten te behalen

Vraag 1: Nederlands | Lees dit Ujese verhaal van Cor van den Broek:

M'rie opende haar ogen, ze zag zich in lichtgroen lentegras liggen.

Petieke likte haar gezicht en joekerde zacht of ie zeggen wilde: -"Wor nou 's wakker, baosje."

Ze wreef 'ns door haar ogen en keek om haar heen. De wereld zag er anders uit, de zon scheen aan de hemelsblauwe lucht, de bomen, de struiken waren frisgroen. -"Di moet ut paradijs zijn,"- dacht ze.

Ook haar huid en kleren waren anders, ze voelde zich jonger, had 'n mooi lichtblauw jurkje met witte, kante biesjes.

Ze rook ook anders, frisser, 'n hemels geurtje wat ze niet herkende.

Ze stond op, verward wandelde ze 'n eindje in de hoop iets herkenbaars te zien.

In de verte zag ze de torens van de St. Pieterkerk en de kapel.

_"Daor moe'k hinne,"- dacht ze en even later liep ze over de Bosschebaan richting de kapel.

Ze ging de kapel binnen vond in haar handpalm 'n halve cent, -"goed um 'n kêrske aon te steeke,"- dacht ze.

Ze knielde voor het Mariabeeld neer en begon te bidden, ze ging zo op in het gebed dat ze niet merkte dat er iemand naast haar kwam zitten.

Pas toen die een arm om haar heen sloeg, keek ze naast zich, recht in de vertrouwde grijsblauwe ogen van de Abt Prior.

-"Ge komt van wijd vrouwke, zeg me wa'k vùr ouw beteekene kan?"-

Vol overgave vertelde M'rie haar verhaal, van haar kind Sjaantje dat ontvoert was, ze eindigde met de verschijning van de Heilige Maria en het wonder wat ze ondervonden had.

De Abt Prior glimlachte, -"Ge ziet er inderdaad beeter uit as de lèèste keer dè ge hier wârd." - zei hij. -"Ik kan me nog herinnere dè hier zò'n âcht jaor geleeje 'n kiendje te vondeling is gelid. Ut mèske is toen hier bij ut St. Agnes gesticht opgevange èn laoter óndergrâcht be 'ne boer op de Hoeve."

Hoopvol keek M'rie de Abt Prior aan. -"Dè moet óns Sjaantje zijn, toch?"- De Abt Prior keek het vrouwtje aan.

-"Ik zal sebiet d'n boer óp de hoeve gaon bezuuke um mi hùm te bepraote wa te doen mi oew dôchter. As'k meer weet, kom ik be uw te blakke."

Zilte tranen biggelde bij M'rie over haar wangen, -"Zò'k ijndelek m'n dùrske zien?"- dacht ze.

Na de zegen nam ze afscheid van de Abt Prior en wandelde blij de kapel uit.

Buiten kwam Petieke haar vrolijk blaffend tegenmoet en samen wandelde ze door de Bitswijk naar de Hengstheugel.

Thuis aangekomen zocht ze in de linnenkast naar 'n scherf van 'n spiegel, bekeek haar gezicht; -"Ik zie'd'r ècht better uit, zèllufs m'n frètje is weg,"- Glimlachte ze en hoopvol ging ze 'n middagdutje doen..

Uit: De Heks van Hengstheugel, Cor van den Broek, Bruukske

Hoeveel lijdend voorwerpen en meewerkend voorwerpen telt deze tekst?

(2 punten)

1. Lijdend voorwerpen

17/18

Meewerkend voorwerpen

0

Vraag 2: Engels | Welk Engels woord heeft de volgende betekenissen: verdieping, verhaal?

(2 punten)

2. Story

Vraag 3: Duits | Lees onderstaande tekst:

Lippstadt. Die Städtepartnerschaft zwischen Uden und Lippstadt ist eine mehr als 50-jährige Erfolgsgeschichte, aus der sich zahlreiche Freundschaften und vielfältige Kontakte entwickelt haben. Einige dieser Freundschaften und Kontakte bestehen seit vielen Jahren, andere waren von kürzerer Dauer, haben aber wichtige Akzente im Austausch miteinander gesetzt.

Wer ein bisschen in den Aufzeichnungen zur Städtefreundschaft blättert, findet Berichte von interessanten Einzelprojekten, speziellen Bürgerfahrten, regelmäßigen „Dauerbrennern“ und natürlich auch von ganz besonderen Höhepunkten. Ein solches Highlight wird am 12.11.2022 die – coronabedingt verschobenen und eingeschränkten – Aktionen und Feierlichkeiten zum 50-jährigen Partnerschaftsjubiläum zu einem fulminanten Abschluss bringen.

Angeregt durch die beiden Partnerschaftskomitees und vermittelt durch die Gemeinde Uden wird das Orchester der Königlichen Luftwaffe der Niederlande sich ab 20 Uhr mit einem Konzert der Extraklasse präsentieren. Das renommierte Orchester verspricht eine mitreißende Show mit Popmusik vom Feinsten, erstklassigen Solisten und spektakulären Lichteffekten.

Das herausragende Konzertereignis nutzen Vertreter aus Politik und Verwaltung der neuen gegründeten Gemeinde Maashorst, um Lippstadt einen Besuch abzustatten und bei einem interessanten Tagesprogramm auch die Mitglieder des Lippstädter Rates und die Verwaltungsspitze kennenzulernen.

Denn der Abschluss der Jubiläumsfeierlichkeiten zum 50-jährigen Bestehen der Partnerschaft zwischen Uden und Lippstadt ist zugleich auch der Beginn eines neuen Abschnitts dieser erfolgreichen Verbindung.

Seit dem 1. Januar 2022 gehört Uden zur neu gegründeten Gemeinde Maashorst. Diese Tatsache soll die Städtefreundschaft aber keineswegs ausbremsen, sondern weiter beleben und noch interessanter machen. Darüber sind sich die Verantwortlichen auf beiden Seiten einig.

Daher werden die Bürgermeister beider Städte, Paul Rüpp für Maashorst, und Arne Moritz für Lippstadt, durch Unterzeichnung einer entsprechenden Vereinbarung offiziell den Wunsch und den Willen bekräftigen, die bestehende Städtepartnerschaft nun zwischen Lippstadt und Maashorst weiterzuführen. Diese Unterzeichnung wird am Samstag, 12.11.2022, 13.15 Uhr, im Rathaussaal erfolgen. Interessierte Lippstädter Bürgerinnen und Bürger sind eingeladen, bei der Unterzeichnung in den historischen Räumlichkeiten dabei zu sein.

„Ich freue mich sehr auf den Besuch der Freunde aus Maashorst und bin wirklich gespannt auf das großartige Orchester der Königlichen Luftwaffe der Niederlande. Es wird sicherlich ein besonderer „Feiertag“ im Sinne der Städtepartnerschaft werden“, so Bürgermeister Arne Moritz.

Welke gevolgen heeft de overgang van gemeente Uden naar gemeente Maashorst?

(2 punten)

3. Het zal de vriendschap geenszins afremmen, maar meer levendig maken en nog interessanter worden.

Vraag 4: Frans | Vervang de dikgedrukte deel door y of en, en vorm hiermee een correcte Franse zin.

Zin 1: J'arrive **au travail** vers huit heures.

Zin 2: Nous sommes fiers **des résultats de notre travail**.

(2 punten)

4.

Zin 1: **J'y arrive vers huit heures**

Zin 2: **Nous en sommes fiers**

Vraag 5: Wiskunde | Hardlopers presteren het beste wanneer ze ongeveer 30 jaar zijn, daarna neemt de snelheid af. We constateren dat tussen 35 en 55 jaar de gemiddelde snelheid bij wedstrijden met 0,85% afneemt, per levensjaar. Een halve marathon is 21,0975 km. Een hardloper loopt in 2010 op 37-jarige leeftijd een halve marathon met een gemiddelde snelheid van 19,4 km per uur. Precies 12 jaar later loopt hij dezelfde halve marathon in een tijd van 1 uur, 10 minuten en 4 seconden. Uitgaande van zijn gemiddelde snelheid in 2010 en een afname van die gemiddelde snelheid met 0,85% per levensjaar, heeft de hardloper sneller gelopen dan de constatering voorspelt.

Bereken hoeveel seconden sneller. Geef het antwoord als geheel getal.

(2 punten)

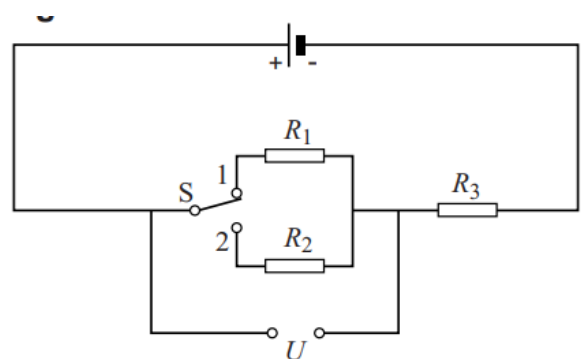
5. 133 seconden

Vraag 6: Natuurkunde | Sommige fietsers gebruiken speciale lampen voor ritten tijdens de nacht. Deze lampen werken op een accu met een constante spanning van 8.4 V. In het lampje, met twee verschillende standen voor lichtsterkte, zit een led lamp.

Met schakelaar S kun je kiezen of weerstand R_1 of weerstand R_2 in serie wordt geschakeld met weerstand R_3 . Hierdoor verandert de spanning U , waarop de led zit aangesloten. In stand 1 brandt de led feller dan in stand 2.

Leg uit of weerstand R_1 groter of kleiner is dan weerstand R_2 .

(2 punten)



6. Weerstand R_1 is groter. Stroom kiest de weg van de minste weerstand en dus naar het paraleleschakelde lampje gaat waardoor die feller brandt.

Vraag 7: Scheikunde | Welke Ujese straatnaam (7 letters) kun je maken met de afkortingen (op volgorde) van:

een aardalkalimetaal, een actinide, een lanthanide, een halogeen

(2 punten)

7. RaAmHoF

Vraag 8: Maatschappijleer | Welke partijen haalden in de gemeente Maashorst de meeste én de minste stemmen tijdens de Provinciale Staten-verkiezingen van dit jaar?

(2 punten)

8.

Meeste: **BBB**

Minste: **Jezus Leeft**

Vraag 9: Verzorging | Welk gerecht wordt in onderstaand recept gemaakt?

(2 punten)

1. Doe eidooiers en kristalsuiker in een kom en klop het goed door elkaar.
2. Giet de slagroom in een pan, halveer een vanillestok in de lengte en voeg het hieraan toe.
3. Verwarm de slagroom roerend en doe het vervolgens bij de dooiers terwijl je blijft roeren.
4. Verspreid het mengsel in de ovenschaaltjes. Zet ze in een ovenschaal en giet er een laagje heet water bij.
5. Doe dit in de oven en bak in 45-50 minuten in de oven op 150°C (boven en onderwarmte).
6. Als het mengsel stevig is, maar in het midden nog wat wiebelig dan zijn ze goed.
7. Laat afkoelen op het aanrecht en dan opstijven in de koelkast, minimaal 3 uur.
8. Daarna doe je er een dun laagje rietsuiker over en gebruik een brander om deze te smelten. Dit kan ook onder de grill.



- ABC -

9. Crème brûlée

Vraag 10: Informatica | Wat betekent onderstaande reeks?

44 65 20 55 6A 65 73 65 20 4B 77 69 73 20 69 73 20 6C 65 75 6B 21

(2 punten)

- ABC -

10. De Ujese Kwis is leuk!

Vraag 11: Biologie | Ervan uitgaande dat het allel voor bruine ogen dominant is, voor blauwe ogen recessief en er zijn geen andere oogkleuren.

Jij hebt blauwe ogen, je ouders en grootouders hebben allemaal bruine ogen. Hoeveel recessieve allelen hebben de omschreven personen samen minimaal? En maximaal?

(2 punten)

11.

Minimaal: **6**

Maximaal: **8**

Vraag 12: CKV | Sinds dit jaar wordt de muurschildering van Peerke Verschiet in de Flatwijk vergezeld door een QR-Code. Wat is de reden daarvan?

(2 punten)

12. Het linkt naar het luisterverhaal over Peerke Verschiet.

EINDE KLEINE KWIS

Vraag 13: Tekenen | Maak een (digitale) tekening van een Ujes symbool en zet deze op de USB-stick (een foto maken mag ook).

(2 punten)

Vraag 14: Filosofie | Hij was een denker in de 17e eeuw die wiskundige, politicoloog en filosoof was en aanhanger van de Verlichting. Iconisch is het werk dat na zijn dood uitkwam, hij was een jood van Portugese afkomst, maar woonde heel zijn leven in Nederland. **Wie is dit?**

(2 punten)

14. Baruch Spinoza

Vraag 15: Muziek | Welk muziekstuk wordt hier beschreven?

(2 punten)

Het eerste deel opent met een motief van vier noten, een van de meest beroemde in de westerse muziek. Dirigenten zijn het er niet over eens, hoe de eerste vier maten gespeeld moeten worden, sommigen hanteren een strikt allegro tempo, anderen spelen het langzamer en statiger en weer anderen spelen het molto ritardando.

Het eerste deel is in een traditionele sonate-vorm die de componist van zijn klassieke voorgangers geadopteerd heeft. Het start met twee dramatische fortissimo frasen, het beroemde motief, hetgeen de aandacht van de luisteraar vraagt. Na de eerste vier maten gebruikt de componist imitaties en combinaties om het thema uit te breiden. Deze imitaties vallen over elkaar met een ritmische gelijkmatigheid, waardoor het lijkt of zij één enkele, vloeiende melodie vormen. Kort daarna volgt een hele korte fortissimo brug, gespeeld door de hoorns, voordat een tweede thema wordt geïntroduceerd. Dit tweede thema is in E \flat -majeur en het is meer lyrisch, geschreven piano en bevat het motief van vier noten in de begeleiding van strijkers. De codetta is ook gebaseerd op het motief van vier noten. Daarna volgt een ontwikkelingssectie, inclusief een brug. Tijdens de recapitulatie is er een klein segment voor de hobo in quasi-improvisatiestijl en het eindigt met een gigantisch coda. Een typisch optreden van dit deel duurt 6-8 minuten.

15. De vijfde (symfonie) van Beethoven

Vraag 16: Economie | Maak van onderstaande tekst een goede economische redenering. Omcirkel het juiste antwoord.

Laag consumentenvertrouwen leidt tot (1) meer/minder bestedingen en (2) meer/minder besparingen door consumenten. Producenten zullen daarom hun prijzen (3) verhogen/verlagen Vervolgens zullen de lonen, winsten en investeringen (4) dalen/stijgen Consumenten zullen daarop hun bestedingen (5) uitstellen/vervroegen. Daardoor stagneert de economische ontwikkeling.

(2 punten)

16.

1. meer/minder

4. dalen/stijgen

2. meer/minder

5. uitstellen/vervroegen

3. verhogen/verlagen

Vraag 17: Geschiedenis | Wie regeerde over Uje direct voordat het Verenigd Koninkrijk der Nederlanden ontstond?

(2 punten)

17. Willem I (Willem Frederik Prins van Oranje-Nassau) als Soeverein Vorst van Soeverein vorstendom der Nederlanden.

Vraag 18: Aardrijkskunde | Waar bevindt zich het hoogste punt (NAP) van Uje, bebouwing niet meegerekend?

(2 punten)

18. De Schans (Ariekesweg/Vluchtoordweg)

Vraag 19: Lichamelijke opvoeding | Welke sporten zullen voor het eerst op de Olympische Spelen van 2024 te zien zijn?

(2 punten)

19. breakdancen, sportklimmen, golfsurfen en skateboarden

Vraag 20: Klassieke talen | Bij welke Ujese Sportvereniging vindt men de Latijnse tekst die vrij vertaald betekent: Door ballen zijn wij verbonden?

(2 punten)

20. LTC (Uden)


**EINDE CATEGORIE
11. HEREXAMEN**

12. Van alles wa

Kleine kwis: 24 punten te behalen
Grote kwis: 40 punten te behalen

Vraag 1: Foto opdracht | Reis terug naar de jaren 80

Duik in een tijdreis naar de jaren 80 met deze foto opdracht. Leg de kleurrijke mode, unieke stijl en iconische elementen van dat decennium vast. Denk aan neonlichten, retro gadgets en karakteristieke patronen. Laat je creativiteit de vrije loop terwijl je de sfeer en energie van de jaren 80 samen met je team in beelden vastlegt.



Spelregels: Om de punten voor deze foto opdracht te ontvangen moet:

1. Je een teamfoto maken in de jaren 80 sferen,
2. De teamnaam en het teamnummer duidelijk zichtbaar zijn

Succes!

(3 punten)

Vraag 2: Verzamel vier kaarten en maak kwartet

In de envelop 'Van Alles Wa: Kwartet' zitten vier kaarten. De opdracht is simpel: door te ruilen met andere deelnemende teams kun je kwartet maken. Het doel van deze opdracht is om het logo van de Ujese Kwis compleet te hebben in dezelfde kleur.



Ruil deze kaarten met andere groepen en zorg dat jij kwartet hebt voordat het kwisboek weer ingeleverd moet worden. Breng de vier kaarten mee bij het inleveren van het kwisboek.

(4 punten)

Vraag 3: Beroemde films uit de jaren '80

Tijdens de inschrijfmiddag waren er allerlei afbeeldingen van bekende films te zien. **Noem alle films uit de jaren '80 (1980 t/m 1989) die voorbij kwamen.**

(3 punten)

**3. E.T. the Extra-Terrestrial,
Ghostbusters,
The Breakfast Club**

Vraag 4: Foto uit de oude doos
4.A: Bij welk moment in de jaren '80 staat dit gezelschap stil?

(1 punt)

4.A Installatie van burgemeester Hehenkamp



Vraag 4.B: Waar vond deze bijeenkomst plaats?

(1 punt)

4.B In De Schouw

Vraag 5: Serie uit de jaren '80

In welke serie volgt een buitenaards wezen met zijn ruimteschip het radiosignaal van een amateurradiozender, waarna hij op aarde neer stort in de garage van een middenklassegezin bestaande uit een sociaal werker, zijn vrouw en hun twee kinderen?

(1 punt)

5. Alf

Vraag 6: Inschattingsvraag

Tijdens de inschrijfmiddag was er een grote bak met water en voorwerpen tentoongesteld. **Als je deze bak tot de rand met water zou vullen, hoeveel liter water kan er in de bak?**

(1 punt)

6. 105 - 116 liter



Vraag 7: Het logo van de Ujese Kwis

In aanloop naar de vorige editie van de Ujese Kwis in 2022 stond ons logo in de etalage van Restaurant Cusco. Wellicht heb je dit logo ook dit jaar ergens zien hangen. **De vraag is nu: waar hing het logo dit jaar?**

(2 punten)

7. in de mast aan de Leeuweriksweg

Vraag 8: Product over datum

Ga op zoek naar een product dat ver over de datum is. Ben jij degene die hét product met de oudste houdbaarheidsdatum meeneemt bij het inleveren van het kwisboek? Dan ontvang je de volledige punten van de categorie 'Van alles wa'. Uiteraard krijg je het product na vertonen van de houdbaarheidsdatum weer retour. Tip: Vergeet niet de volledige categorie te maken, want je weet nooit of jij diegene bent die het product met de oudste houdbaarheidsdatum heeft meegenomen.

(4 punten)

Vraag 9: Uitkomst puzzel Udens Weekblad

Ook dit jaar stond er weer een puzzel van de Ujese Kwis in het Udens Weekblad. Vul hieronder de uitkomst in.

(2 punten)

9. De sponsors van de ujese kwis op derde kerstdag

Vraag 10: Een nieuw bestuur

Op de website van de Ujese Kwis worden de portretfoto's van onze bestuursleden weergegeven. Deze foto's zijn gemaakt door &Joyce fotografie, Joyce Janssen. Op welke locatie zijn de foto's van René en Luts genomen? Benoem de straatnaam.

(2x1 punt)



10.A Industrielaan
of energielaan


10.B Lauwere
of germenzeel of melle

EINDE KLEINE KWIS

Vraag 11: Los de Rubik's Cube op

De Rubik's Cube, een 3D-puzzel die de geest uitdaagt. Wie kent hem niet? **Maak het afgebeelde patroon na met een Rubik's Cube.** Neem de Rubik's Cube mee tijdens het inleveren van het kwisboek, zodat wij kunnen controleren of het gelukt is om het patroon na te maken. Indien je de Rubik's Cube vergeet mee te nemen, krijg je GEEN punten voor deze vraag.

(3 punten)



Vraag 12: Ter promotie van de Ujese Kwis hebben wij in Uje allerlei poster opgehangen. Noem de juiste locaties bij onderstaande foto's waar onze poster zichtbaar was. **Noem de locaties bij onderstaande foto's waar onze poster zichtbaar was.** (4x2 punten)




12.A

12.A Nachtegaal




12.B

12.B 't Cafeeke



12.C

12.C JBC Plop



12.D

12.D Podiumhuys of Handelshuys

Vraag 13: Van het kastje naar de muur

In Uje zijn verschillende minibiebs en weggeefkasten aan huis te vinden. **In welke straat bevinden zich de volgende kasten?**

(2x2 punten)



13.A Vioolstraat



13.B Eikenwal

13.C: Van welk spel maken zij onderdeel uit?

(1 punt)

13.C Pokémon Go

EINDE CATEGORIE 12. VAN ALLES WA



**Veul
Succes!**